

Test di accesso al Corso di Laurea in
SCIENZE DELLA FORMAZIONE PRIMARIA

NON STRAPPARE
L'INVOLUCRO DI PLASTICA PRIMA CHE VENGA
DATO IL SEGNALE DI INIZIO DELLA PROVA

La domanda seguente è un quesito di rielaborazione di brani e va risolto individuando tra le alternative proposte la rielaborazione che meglio sintetizza il contenuto del testo di partenza in base ai criteri seguenti:

- **chiarezza:** la rielaborazione deve esprimere chiaramente e completamente l'argomentazione principale del testo;
- **essenzialità:** la rielaborazione deve evitare ridondanze e argomentazioni secondarie o subordinate e non può riportare informazioni aggiuntive o diverse da quelle contenute nel testo di partenza;
- **somiglianza:** la rielaborazione deve contenere tutti i principali concetti espressi nel testo di partenza.

Con il termine "volgare" si definisce ognuna delle lingue o dei dialetti nati dall'evoluzione del latino. In Italia, quando il volgare di Firenze si affermò su tutti gli altri, nacque l'italiano come lingua nazionale, anche se al principio soltanto come lingua letteraria. Nel parlato restavano, invece, ancora evidenti le differenze tra regione e regione.

1 Rispondere al seguente quesito facendo riferimento al BRANO 01.

Individuare l'alternativa che meglio sintetizza il testo secondo i criteri sopra indicati.

- 1** L'italiano deriva dal volgare fiorentino, che veniva usato però soltanto in ambito letterario. Oralmente nelle diverse regioni italiane si parlavano dialetti differenti.
- 2** "Volgare" indica ogni lingua o dialetto derivati dall'evoluzione del latino. L'italiano nacque dal volgare fiorentino, come lingua nazionale letteraria; nel parlato restavano grandi differenze tra regione e regione.
- 3** Quando la lingua italiana, derivata dal volgare fiorentino, si diffuse in tutto il territorio nazionale, non vennero più parlati i dialetti locali.
- 4** La lingua nazionale che si affermò in Italia fu il volgare, che deriva dal latino letterario.

2 Il congiuntivo presente attivo del verbo "temere", seconda persona plurale, è

- 1** temete
- 2** temiate
- 3** temerete
- 4** temereste

3 Riferendosi esclusivamente alla frase seguente, individuare l'alternativa che la completa nel modo corretto: "Non si può dire che ... uno di quelli che si ... di fronte ai testi difficili".

- 1** fosse stato; spaventerà
- 2** sia; spaventano
- 3** sarebbe; era spaventato
- 4** fosse; spaventata

4 Indicare il gruppo di parole che NON contiene errori ortografici.

- 1** Striscia, sciupato, paniere, asce, pregevole
- 2** Coscenza, impugnare, ingegno, incandescente, sciegliere
- 3** Fascie, sciame, ascia, incuietare, abbraccerà
- 4** Ingegniere, scetto, specie, bagnierò, scienata

Questo brano è seguito da uno o più quesiti, la cui soluzione deve essere individuata solo in base alle informazioni contenute (esplicitamente o implicitamente) nel brano e non in base a quanto il candidato eventualmente conosca sull'argomento.

Paragrafo 1

La "sindrome di Peter Pan", la volontà di non crescere, è diventata una vera e propria "malattia dell'anima". Lo psicologo americano Dan Kiley a essa ha dedicato addirittura un libro, uscito nella traduzione italiana nel 1985 (Gli uomini che hanno paura di crescere), in cui mette bene in luce il doloroso scontro con il "principio di realtà" che sempre più drammaticamente coinvolge gli adolescenti moderni, portandoli a opporre una resistenza strenua al fatto di dover diventare adulti. Secondo lui la causa di tutto questo è nella famiglia: «I genitori permissivi – osserva – hanno fatto sì che i bambini si convincessero che le regole, nel loro caso, non si applicassero mai». Le conseguenze sono a suo dire sconcertanti: «I ragazzi se seguono le orme di Peter Pan sono condannati ad accumulare sensazioni di isolamento dagli altri e di fallimento, via via che si compie l'ingresso definitivo in una società dotata di assai poca pazienza con gli adulti che si comportano da bambini. Irresponsabilità, ansia d'abbandono, solitudine, narcisismo sono le caratteristiche del personaggio Peter Pan e dei suoi, più o meno inconsapevoli, seguaci».

Paragrafo 2

C'è da aggiungere, al quadro psicologico fin qui tracciato, che esistono anche motivazioni "oggettive" al dilagare della sindrome di Peter Pan: le difficoltà di inserimento nel mondo del lavoro, la civiltà dei consumi e la congiuntura economica in realtà impediscono in qualche modo ai giovani di crescere, di entrare cioè nella pienezza della vita e nel mondo produttivo assumendosi la responsabilità e il controllo delle proprie scelte e del proprio destino.

Paragrafo 3

Una recente indagine dell'ISTAT ha rilevato che quasi il 60% dei giovani fra i diciotto e i trentaquattro anni vive ancora a casa con i genitori e molti di loro non lo fanno per necessità né per studiare né per mancanza di lavoro o di alloggi, ma soprattutto perché lo trovano comodo e conveniente. Via via i genitori diventano più vecchi, mentre i figli "invecchiano" in casa senza diventare genitori.

(Archivio Selexi)

5 Rispondere al seguente quesito facendo riferimento al BRANO 02.

Secondo lo psicologo americano Dan Kiley, quali caratteristiche accomunano gli adolescenti di oggi che “seguono le orme di Peter Pan” (paragrafo 1)?

- 1 Allegria, spensieratezza, narcisismo
- 2 Solitudine, modestia, felicità
- 3 Irresponsabilità, isolamento, narcisismo, paura dell'abbandono
- 4 Irragionevolezza, solitudine, vanagloria, sicumera

6 Rispondere al seguente quesito facendo riferimento al BRANO 02.

Secondo quanto riportato nel paragrafo 3 del brano, molti degli odierni “Peter Pan”

- 1 scelgono di continuare a vivere con i genitori anche a prescindere da ragioni oggettive o difficoltà economiche
- 2 preferiscono assistere i genitori in casa quando invecchiano
- 3 si assumono la responsabilità delle loro scelte
- 4 cercano di emanciparsi, impegnandosi con serietà e determinazione nella ricerca di un impiego

7 Rispondere al seguente quesito facendo riferimento al BRANO 02.

Nel paragrafo 2 del brano si afferma che lo stato psicologico “dell'eterna adolescenza” dipende

- 1 da caratteristiche genetiche degli individui
- 2 sempre e soltanto da una scelta dettata da comodità e convenienza
- 3 sempre da una scelta autonoma dell'individuo
- 4 anche da sfavorevoli congiunture socio-economiche

ESEMPIO

Individuare il diagramma che soddisfa la relazione insiemistica esistente tra i termini dati:

Operai specializzati, Fabbriche, Operai

Tutti gli *operai specializzati* sono operai, ma non viceversa; la soluzione dell'esercizio deve dunque raffigurare un insieme, quello degli *operai specializzati*, interamente contenuto in un altro insieme, quello degli *operai*. L'insieme *fabbriche* rimane invece a sé stante poiché un operaio, pur lavorando all'interno di una fabbrica, da un punto di vista insiemistico non appartiene all'insieme *fabbriche*. L'alternativa corretta è quindi rappresentata dal Diagramma 2.



DIAGRAMMA 1




DIAGRAMMA 2




DIAGRAMMA 3

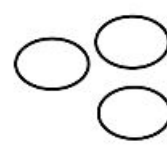


DIAGRAMMA 4

8 Rispondere al seguente quesito facendo riferimento all'IMMAGINE 01.

Giornalisti, Fumatori, Non fumatori

- 1 Diagramma 2
- 2 Diagramma 1
- 3 Diagramma 4
- 4 Diagramma 3

Questo brano è seguito da uno o più quesiti, la cui soluzione deve essere individuata solo in base alle informazioni contenute (esplicitamente o implicitamente) nel brano e non in base a quanto il candidato eventualmente conosca sull'argomento.

Il processo di socializzazione viene tradizionalmente distinto in due fasi chiamate, rispettivamente, della socializzazione primaria e della socializzazione secondaria.

La socializzazione primaria riguarda i primi anni di vita dell'individuo e rappresenta i processi attraverso i quali egli diventa un membro della società. La socializzazione secondaria comprende tutte le esperienze e le relazioni che caratterizzano il bambino da un'età che convenzionalmente si fa coincidere con l'inizio della scuola elementare (sei anni) e che si considera segua la socializzazione primaria. Questo secondo tipo di socializzazione consiste nell'adeguamento dell'individuo alle diverse realtà sociali con le quali viene a interagire. Dal momento che ogni individuo attraversa esperienze nuove, in contesti diversi e per un tempo indefinito, ne deriva che il processo di socializzazione secondaria non ha di fatto mai fine o comunque è legato al mutare delle realtà sociali con le quali il singolo si incontra e nelle quali si inserisce per svolgere un ruolo.

La socializzazione primaria è caratterizzata dall'inevitabilità (il bambino non può scegliere i propri genitori e dipende totalmente dagli adulti che lo circondano) e dalla positività (il mondo dell'infanzia è tendenzialmente rassicurante, si sforza di creare fiducia nel nuovo nato ed è gratificante, perché i rapporti si stabiliscono con chi dà al bambino la possibilità di soddisfare i propri bisogni elementari). La socializzazione avviene dunque attraverso processi di identificazione con i modelli rappresentati dagli adulti che circondano il nuovo nato. E questi processi sono fortemente caratterizzati da componenti emotive che contribuiscono a fissare le caratteristiche dell'identità (personalità di base) dell'individuo in modo poi difficilmente modificabile.

Il processo di socializzazione primaria consiste in una prima identificazione con i comportamenti degli altri, specie di quelle figure che assumono una rilevanza speciale per il nuovo nato, e in seguito in un progressivo riconoscimento della rilevanza di comportamenti e atteggiamenti di importanza generale. Se in un primo tempo il bambino vede se stesso attraverso l'identificazione con alcune persone che gli stanno vicino, in un secondo tempo egli comprende che determinati comportamenti sono comuni a tutti e validi per tutti. In questo modo il bambino si identifica non più con poche persone ma con il complesso degli altri, cioè con la società. Viene così ad acquistare un'identità di fronte al mondo esterno che alcuni sociologi (G.H. Mead, per esempio) hanno definito "altro generalizzato".

(Archivio Selexi)

9 Rispondere al seguente quesito facendo riferimento al BRANO 03.

In base a quanto scritto nel brano, per alcuni sociologi, l'“altro generalizzato” è

- 1** il gruppo sociale, rappresentativo del mondo esterno, rispetto al quale il bambino definisce la propria identità
- 2** il mondo dell'infanzia, costituito dalle figure genitoriali che ne soddisfano i bisogni generali primari
- 3** l'insegnante che propone i primi modelli generali della socializzazione secondaria
- 4** il gruppo dei compagni di giochi

10 Rispondere al seguente quesito facendo riferimento al BRANO 03.

In base a quanto scritto nel brano, la socializzazione

- 1** primaria è debolmente caratterizzata da componenti emotive
- 2** secondaria termina con l'acquisizione della maturità da parte dell'individuo
- 3** primaria consiste nell'adeguamento dell'individuo alle diverse realtà sociali in cui è inserito
- 4** primaria è riferita ai primi anni di vita del bambino

11 “Tutti i delfini nuotano. Tutti i delfini sono mammiferi. Tutti i mammiferi vivono a lungo”. Quale delle seguenti affermazioni può essere dedotta dalle precedenti?

- 1** I delfini vivono a lungo
- 2** Tutti i mammiferi sono delfini
- 3** Se un mammifero nuota è un delfino
- 4** I delfini sono pesci

12 Un sinonimo di “dannoso” è

- 1** maleducato
- 2** malsicuro
- 3** delatore
- 4** nocivo

BRANO 04

La domanda seguente è un quesito di rielaborazione di brani e va risolto individuando tra le alternative proposte la rielaborazione che meglio sintetizza il contenuto del testo di partenza in base ai criteri seguenti:

- **chiarezza:** la rielaborazione deve esprimere chiaramente e completamente l'argomentazione principale del testo;
- **essenzialità:** la rielaborazione deve evitare ridondanze e argomentazioni secondarie o subordinate e non può riportare informazioni aggiuntive o diverse da quelle contenute nel testo di partenza;
- **somiglianza:** la rielaborazione deve contenere tutti i principali concetti espressi nel testo di partenza.

Il Senato degli Stati Uniti ha detto no a ulteriori trivellazioni nei santuari naturali dell'Alaska, al di là del Circolo polare artico.

13 Rispondere al seguente quesito facendo riferimento al BRANO 04.

Individuare l'alternativa che meglio sintetizza il testo secondo i criteri sopra indicati.

- 1 Il Senato ha permesso le trivellazioni nel settore artico dell'Alaska.
- 2 Il Senato americano ha dato parere negativo alla trivellazione del suolo delle Chiese in Alaska.
- 3 Gli abitanti dell'Alaska si sono opposti alla trivellazione del loro territorio.
- 4 Il Senato statunitense ha negato il permesso di trivellare ulteriormente le regioni artiche dell'Alaska.

BRANO 05

Questo brano è seguito da uno o più quesiti, la cui soluzione deve essere individuata solo in base alle informazioni contenute (esplicitamente o implicitamente) nel brano e non in base a quanto il candidato eventualmente conosca sull'argomento.

Il termine "educazione" indica sia i processi educativi nel loro aver luogo di fatto, sia le elaborazioni e le opzioni riguardo a quanto dovrebbe essere educativo; il termine, cioè, riguarda sia la descrizione dei fenomeni educativi, sia la discussione e l'assunzione di criteri valutativi e progettuali.

La definizione del termine educazione è di conseguenza complessa e indefinita insieme, il suo campo semantico ha confini labili ed è poco strutturato al suo interno.

Anche la disciplina pedagogica è assai composita, la sua identità è sfumata (si tratta di una identità molto mossa e molto aperta secondo linee di equilibrio dinamico), eppure non disponiamo di definizioni e di elaborazioni disciplinari che la possano sostituire facilmente.

La pedagogia, dunque, intesa come studio dell'educazione, è una sorta di punto di vista che offre un'unità percettiva a problemi disparati: formazione intenzionale e non, tra adulti e minori, tra coetanei reciprocamente, relativamente a saperi e conoscenze, comportamenti, abiti mentali e atteggiamenti spirituali.

(Archivio Selexi)

14 Rispondere al seguente quesito facendo riferimento al BRANO 05.

L'autore sottolinea il valore della pedagogia come disciplina

- 1 che studia solo la discussione e l'assunzione di criteri valutativi e progettuali e non anche i fenomeni educativi
- 2 dai contorni ben definiti
- 3 che può facilmente sostituire l'educazione
- 4 che percepisce in chiave unitaria problemi disparati

15 Rispondere al seguente quesito facendo riferimento al BRANO 05.

Un insegnante impartisce una lezione a un allievo. Questo atto è

- 1 espressione della differenza tra più generazioni
- 2 un processo di esclusiva competenza della didattica
- 3 un processo che rientra nell'ambito educativo
- 4 un processo di indottrinamento

16 Rispondere al seguente quesito facendo riferimento al BRANO 05.

Secondo quanto emerge dal brano, qual è il rapporto tra educazione e pedagogia?

- 1 La seconda (pedagogia) è oggetto di studio della prima (educazione)
- 2 La prima (educazione) è oggetto di studio della seconda (pedagogia)
- 3 I due termini vengono scambiati nella dottrina anche a causa della vaghezza del loro campo semantico
- 4 Entrambe studiano i processi di apprendimento tra adulti e minori o tra coetanei reciprocamente

17 Nella frase: “Il professore di storia ci ha parlato del fascismo”, quale funzione svolge “del fascismo”?

- 1** Complemento di tempo
- 2** Complemento di argomento
- 3** Complemento di moto a luogo
- 4** Complemento di modo

BRANO 06

Questo brano è seguito da uno o più quesiti, la cui soluzione deve essere individuata solo in base alle informazioni contenute (esplicitamente o implicitamente) nel brano e non in base a quanto il candidato eventualmente conosca sull'argomento.

Io credo che la scuola sia prima di tutto un'istituzione sociale. Essendo l'educazione un processo sociale, la scuola è semplicemente quella forma di vita di comunità in cui sono concentrati tutti i mezzi che serviranno più efficacemente a rendere il fanciullo partecipe dei beni ereditati dalla specie e a far uso dei suoi poteri per finalità sociali.

(Archivio Selexi)

18 Rispondere al seguente quesito facendo riferimento al BRANO 06.

In base a quanto scritto nel brano si può affermare che l'educazione è

- 1** qualcosa che non è possibile definire
- 2** una forma di condizionamento
- 3** qualcosa che riguarda solo la famiglia
- 4** un processo sociale

19 Rispondere al seguente quesito facendo riferimento al BRANO 06.

Secondo l'autore, la scuola è quella forma di vita di comunità che

- 1** esercita un potere esclusivo sulla crescita culturale dei bambini
- 2** concentra i mezzi per rendere il fanciullo partecipe dei beni culturali
- 3** in cui gli insegnanti assumono decisioni individuali
- 4** mira a sviluppare nei bambini il desiderio di competere fra loro

20 Rispondere al seguente quesito facendo riferimento al BRANO 06.

In base a quanto scritto nel brano, si può affermare che la scuola è prima di tutto

- 1** un'istituzione sociale
- 2** un'istituzione benefica
- 3** un'istituzione gerarchica
- 4** un'istituzione filantropica

21 "Alcuni studenti della classe sono alti, tutti gli studenti alti sono biondi". Se le precedenti affermazioni sono vere allora è necessariamente vero che

- 1** tutti gli studenti sono biondi
- 2** alcuni studenti della classe sono biondi
- 3** solo se sei alto e biondo puoi far parte di questa classe
- 4** nessuno studente della classe è biondo

22 Quale tra le seguenti forme del verbo tra parentesi è appropriata a completare la seguente frase? “I miei amici ... (andare) volentieri al teatro questa sera, ma sono occupati nel preparare un esame”.

- 1** erano andati
- 2** vanno
- 3** sono andati
- 4** andrebbero

Questo brano è seguito da uno o più quesiti, la cui soluzione deve essere individuata solo in base alle informazioni contenute (esplicitamente o implicitamente) nel brano e non in base a quanto il candidato eventualmente conosca sull'argomento.

Poiché l'intelligenza matematica e l'intelligenza spaziale derivano entrambe dall'azione del bambino sul mondo, ci si può chiedere se esse comportino forme di intelligenza diverse. Pare che Piaget ne fosse convinto. Egli introdusse la distinzione tra "conoscenza figurativa" che conserva l'immagine mentale degli oggetti e "conoscenza operativa" che interviene sulla trasformazione delle immagini mentali".

(Archivio Selexi)

23 Rispondere al seguente quesito facendo riferimento al BRANO 07.

Secondo Piaget, la conoscenza figurativa è

- 1** la capacità di conservare l'immagine mentale di un oggetto
- 2** la capacità di ricordare una sequenza di immagini
- 3** la capacità di immaginare spazi in movimento
- 4** nessuna delle altre risposte è corretta

24 Rispondere al seguente quesito facendo riferimento al BRANO 07.

Secondo Piaget, la conoscenza operativa

- 1** interviene per la trasformazione delle immagini mentali
- 2** conserva l'immagine mentale degli oggetti
- 3** funziona allo stesso modo della conoscenza figurativa
- 4** riguarda le operazioni matematiche

25 Quale tra le seguenti coppie di verbi è adatta a completare la frase "Sono stanco, ... (lasciare) tutto e ... (continuare) a vivere in un luogo lontano" coniugando correttamente le forme verbali tra parentesi?

- 1** avevo lasciato, continuavo
- 2** ho lasciato, ho continuato
- 3** ho lasciato, avrei continuato
- 4** lascerei, continuerei

26 Indicare la sequenza di parole che NON contiene errori ortografici.

- 1** Impaziente, avizito, primizzia, poliziotto, colazione
- 2** Vizioso, impazito, azione, grazzioso, azoto
- 3** Contrazione, battezzare, facezia, prezzo, contentezza
- 4** Giustizia, lazaretto, coraza, giustezza, apprezzare

27 Quale numero, fra i seguenti, completa correttamente la seguente successione numerica? 5, 12, 19, 26, 33, ...

- 1** 45
- 2** 43
- 3** 47
- 4** 40

28 Quale dei seguenti periodi contiene una proposizione relativa?

- 1** Non riesco a capire come tu abbia fatto a ottenere una promozione in questo momento di crisi per l'azienda
- 2** Incontrerò domani a pranzo quel consulente che potrebbe aiutarci nel nostro lavoro
- 3** Ti chiedo cosa pensi di fare poiché vorrei aiutarti a risolvere la questione il prima possibile
- 4** Benché sia aprile, fa ancora molto freddo

29 È stato cancellato l'articolo di legge che permetteva ai medici di esercitare la professione sia in una struttura ospedaliera, sia in uno studio privato. Qual è il corretto significato della precedente affermazione?

- 1 I medici possono esercitare o in strutture ospedaliere o in studi privati
- 2 I medici non possono esercitare in strutture ospedaliere
- 3 I medici non possono esercitare in studi privati
- 4 I medici possono esercitare contemporaneamente in strutture sia ospedaliere sia private

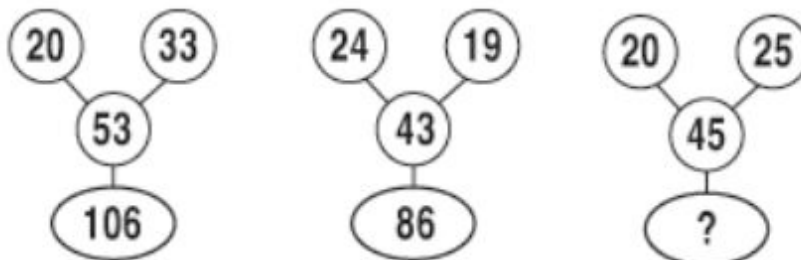
30 Individuare, tra le alternative proposte, quella che NON contiene errori.

- 1 I particolari sono divulgati dai giornali poiché lo scandalo fosse denunciato
- 2 I giornali enfatizzarono morbosi pettegolezzi sullo scandalo invece di indicarne i responsabili
- 3 Invece che facciano luce sullo scandalo, i giornalisti denunciarono i responsabili
- 4 Affinché saltassero fuori i colpevoli, i giornali denunceranno lo scandalo

31 Dal verbo agire deriva il nome azione; dal verbo incidere deriva il nome incisione; dal verbo riflettere deriva il nome riflessione. Quali nomi derivano dai seguenti verbi? "affiggere, fungere, tendere, annettere, ungere".

- 1 Affissione, funzione, tensione, annessione, unzione
- 2 Aflizione, funzione, tensione, annessione, unzione
- 3 Affissione, finzione, tensione, annessione, unzione
- 4 Afflizione, funsione, tensione, annessione, unsione

SUCCESSIONE 01



32 Rispondere al seguente quesito facendo riferimento alla SUCCESSIONE 01.

Individuare il numero mancante.

- 1 90
- 2 97
- 3 141
- 4 69

La domanda seguente è un quesito di rielaborazione di brani e va risolto individuando tra le alternative proposte la rielaborazione che meglio sintetizza il contenuto del testo di partenza in base ai criteri seguenti:

- **chiarezza:** la rielaborazione deve esprimere chiaramente e completamente l'argomentazione principale del testo;
- **essenzialità:** la rielaborazione deve evitare ridondanze e argomentazioni secondarie o subordinate e non può riportare informazioni aggiuntive o diverse da quelle contenute nel testo di partenza;
- **somiglianza:** la rielaborazione deve contenere tutti i principali concetti espressi nel testo di partenza.

Il dopoguerra in Gran Bretagna fu segnato da un evento in un certo modo sorprendente. Winston Churchill, il capo della nazione in guerra, uno dei dominatori della politica mondiale e degli accordi tra le grandi potenze, perse in modo clamoroso le elezioni del 5 luglio 1945.

33 Rispondere al seguente quesito facendo riferimento al BRANO 08.

Individuare l'alternativa che meglio sintetizza il testo secondo i criteri sopra indicati.

- 1** Churchill, che era stato a capo della Gran Bretagna durante la guerra e fra i più importanti statisti nel mondo intero, perse sorprendentemente le elezioni del 5 luglio 1945.
- 2** Churchill, che era stato avversario della Gran Bretagna durante la guerra, perse le elezioni del 5 luglio 1945.
- 3** La prevedibile sconfitta elettorale di Churchill era stata causata dal suo protagonismo in Gran Bretagna, durante la guerra, e tra le principali potenze mondiali per gli accordi di pace.
- 4** Churchill vinse le elezioni del 5 luglio 1945.

34 Qual è, tra i seguenti termini, un contrario di "pigro"?

- 1** Attivo
- 2** Immobile
- 3** Fiducioso
- 4** Inerte

35 Quale, tra i termini proposti, completa correttamente la seguente proporzione verbale? Grasso : pesante = magro : X

- 1** X = alto
- 2** X = leggero
- 3** X = obeso
- 4** X = sottile

36 Quale delle seguenti frasi NON è corretta dal punto di vista GRAMMATICALE?

- 1** Stamattina ho spazzolato il gatto che ieri era uscito sotto la pioggia
- 2** La mamma mi ha detto di invitare a Maria per la mia festa di compleanno
- 3** Mia sorella ha ottenuto un ottimo voto nella prova di matematica che tanto temeva
- 4** A causa del cattivo tempo Giuseppe ha rinviato a domani la gita in montagna

37 Indicare la frase che CONTIENE errori di ortografia.

- 1** Io vado a dare da mangiare ai miei cani
- 2** Ho smarrito la mia borsa a Milano: non ricordo se conteneva la patente o la carta d'identità
- 3** Il cugino di Giuseppe ha acquistato una bicicletta nuova
- 4** Marta e Laura hanno preso le bici e sono andate ha giocare ai giardini pubblici

38 Quale delle seguenti parole NON si può coniugare?

- 1** Logorare
- 2** Litigare
- 3** Livellare
- 4** Litorale

39 Il passato remoto (modo indicativo), prima persona singolare, dei verbi “nascere, tacere, piacere, giacere, nuocere”, è

- 1** nacqui, tacqui, piacqui, giacqui, nocqui
- 2** nascerei, tacerei, piacerei, giacerei, nocerei
- 3** nascessi, tacessi, piacqui, giacessi, nocessi
- 4** nasca, taccia, piaccia, giaccia, noccia

40 Quale delle seguenti frasi **NON** è corretta dal punto di vista **GRAMMATICALE**?

- 1** Quanti libri ci sono nel tuo negozio?
- 2** La banca e l'ufficio del notaio sono nella stessa piazza
- 3** Quella poliziotta è veramente un investigatrice caparbia
- 4** Usa pure la mia sacca da marinaio per le tue cose

41 Quale delle seguenti città italiane è situata più a ovest?

- 1** Bologna
- 2** Trento
- 3** Torino
- 4** Trieste

42 La capitale della Finlandia è

- 1** Mosca
- 2** Bucarest
- 3** Copenaghen
- 4** Helsinki

43 In quale anno si svolse in Italia il referendum istituzionale monarchia/repubblica?

- 1** Nel 1953
- 2** Nel 1970
- 3** Nel 1946
- 4** Nel 1924

44 Il "fordismo" è

- 1** un sistema di produzione industriale
- 2** una corrente artistica, culturale e letteraria inglese
- 3** una corrente cinematografica americana
- 4** una corrente religiosa

45 Quale potenza si fece garante dell'ordine italiano e divenne egemone sulla penisola italiana dopo il Congresso di Vienna?

- 1** Uruguay
- 2** Spagna
- 3** Austria
- 4** Svezia

46 La celeberrima opera illuministica settecentesca "Dei delitti e delle pene" fu scritta da

- 1** Camillo Benso Conte di Cavour
- 2** Cesare Beccaria
- 3** Giuseppe Ungaretti
- 4** Giacomo Leopardi

47 In quale mare/oceano si trovano le isole Hawaii?

- 1** Oceano Pacifico
- 2** Mar Nero
- 3** Mar Glaciale Artico
- 4** Mar Mediterraneo

48 In quali anni l'Italia è stata impegnata nella prima guerra mondiale?

- 1** 1915-1918
- 2** 1918-1921
- 3** 1921-1926
- 4** 1848-1849

49 Scegliere fra le seguenti la sequenza che riporta i personaggi nel corretto ordine cronologico.

- 1** Giulio Cesare, Carlo Magno, Galileo Galilei, Napoleone Bonaparte
- 2** Carlo Magno, Galileo Galilei, Giulio Cesare, Napoleone Bonaparte
- 3** Galileo Galilei, Napoleone Bonaparte, Giulio Cesare, Carlo Magno
- 4** Giulio Cesare, Carlo Magno, Napoleone Bonaparte, Galileo Galilei

50 Chi è l'autore del romanzo "Ulisse"?

- 1** Albert Camus
- 2** Boris Pasternak
- 3** James Joyce
- 4** Federico Moccia

51 La spedizione dei Mille giunse in Sicilia nel

- 1** 1860
- 2** 1848
- 3** 1820
- 4** 1912

52 In quale continente si trova la Cina?

- 1** Oceania
- 2** Africa
- 3** America del Sud
- 4** Asia

53 Chi fu l'autore della "Divina Commedia"?

- 1** Francesco Petrarca
- 2** Giovanni Boccaccio
- 3** Dante Alighieri
- 4** Giacomo Leopardi

54 Quale delle seguenti opere NON è stata scritta da Alessandro Manzoni?

- 1** Adelchi
- 2** I Promessi sposi
- 3** A Silvia
- 4** Inni Sacri

55 Durante l'età giolittiana, l'emigrazione italiana era diretta soprattutto verso

- 1** l'America del Nord e del Sud
- 2** l'Africa
- 3** l'Oceania
- 4** l'Asia

56 Chi scrisse "I Malavoglia"?

- 1** Edmondo De Amicis
- 2** Dante Alighieri
- 3** Giovanni Verga
- 4** Alessandro Manzoni

57 In quale dei seguenti Paesi europei scorre il fiume Senna?

- 1** Francia
- 2** Italia
- 3** Lettonia
- 4** Portogallo

58 Quale dei seguenti monti appartiene alla catena degli Appennini?

- 1** Monte Bianco
- 2** Gran Sasso
- 3** Everest
- 4** Monte Cervino

59 Come si chiama il movimento letterario nato in Francia nella seconda metà dell'Ottocento sotto l'influsso del positivismo, secondo il quale uno scrittore deve rappresentare fedelmente la realtà naturale e sociale?

- 1** Astrattismo
- 2** Naturalismo
- 3** Classicismo
- 4** Esistenzialismo

60 Tra quali potenze ha avuto luogo la cosiddetta “guerra fredda”?

- 1** Argentina e Marocco
- 2** Spagna e Portogallo
- 3** Francia e Belgio
- 4** USA e URSS

61 Cosa sono gli alisei?

- 1** Un movimento artistico
- 2** Venti
- 3** Laghi
- 4** Un tipo di alianti

62 Un animale che ricava energia mangiando un altro animale è detto

- 1** carnivoro
- 2** erbivoro
- 3** preda
- 4** oviparo

63 La cosiddetta “rivoluzione copernicana” determinò

- 1** la prima contestazione della supremazia regale sui diritti feudali
- 2** la nascita degli studi geologici
- 3** l'abbattimento della teoria della generazione spontanea
- 4** l'affermazione della teoria eliocentrica

64 Quale fra i seguenti gas è uno dei principali costituenti dell'aria?

- 1** Propano
- 2** Ossigeno
- 3** Metano
- 4** Cloro

65 Due angoli consecutivi

- 1** hanno i lati coincidenti
- 2** hanno solo il vertice in comune
- 3** hanno soltanto un lato e il vertice in comune
- 4** sono sovrapposti

66 Un quadrilatero con due soli lati paralleli è un

- 1** rettangolo
- 2** parallelogramma
- 3** quadrato
- 4** trapezio

67 Sir Alexander Fleming vinse il premio Nobel per aver scoperto

- 1 il lisozima
- 2 un liquido di fissaggio
- 3 la penicillina
- 4 un ormone surrenalico

68 La radice quadrata di 10 è un numero compreso tra

- 1 10 e 50
- 2 0 e 1
- 3 1 e 3
- 4 3 e 4

69 Qual è la soluzione dell'equazione: $2x - 1 = 5 - x$?

- 1 $x = 2$
- 2 $x = 3$
- 3 Non esiste
- 4 $x = 4$

70 L' H_2O è un componente essenziale

- 1 di tutte le cellule e organismi viventi
- 2 dei soli animali marini
- 3 nessuna delle altre alternative è corretta
- 4 delle sole cellule germinali dei mammiferi

71 Un quadrato ha perimetro di 20 m, quanto misura il lato?

- 1 4 m
- 2 10 m
- 3 5 m
- 4 $8/6$ m

72 Il sangue contiene

- 1 globuli rossi e piastrine, mentre i globuli bianchi si trovano solo nella linfa
- 2 globuli rossi e piastrine, mentre i globuli bianchi si trovano solo nel midollo osseo
- 3 globuli rossi e globuli bianchi, mentre le piastrine si trovano solo nella linfa
- 4 globuli rossi, globuli bianchi e piastrine

73 Nell'organismo umano, il cuore

- 1 fa parte dell'apparato respiratorio
- 2 è costituito da un'unica cavità
- 3 è diviso in quattro cavità: due atri e due ventricoli
- 4 è diviso in tre cavità: due atri e un ventricolo

74 Se si passa da un quadrato il cui lato è 3 cm ad uno il cui lato misura il doppio, come varia l'area?

- 1** Quadruplica
- 2** Si dimezza
- 3** Triplica
- 4** Dipende dalle misure dei due quadrati

75 Se una persona cammina con i tacchi a spillo su un pavimento di legno lucido può rovinarlo. Il fattore critico per determinare il rischio di danno è

- 1** il rapporto fra l'altezza della persona e la superficie del tacco
- 2** il rapporto fra la massa della persona e la superficie del tacco
- 3** la superficie del tacco
- 4** l'altezza della persona

76 Quale dei seguenti è un elemento chimico?

- 1** Il legno
- 2** L'idrogeno
- 3** La candeggina
- 4** La trielina

77 Un numero naturale è divisibile per 6 se

- 1** è un numero dispari
- 2** è pari e la somma delle sue cifre è divisibile per 5
- 3** è pari e la somma delle sue cifre è divisibile per 3
- 4** l'ultima cifra del numero è 6

78 Quanto vale il Massimo Comune Divisore dei numeri 12, 4 e 8?

- 1** 24
- 2** 1
- 3** 12
- 4** 4

79 La definizione scientifica di velocità di un corpo è

- 1** il tempo impiegato a percorrere un chilometro
- 2** lo spazio occupato
- 3** il rapporto tra lo spazio e il tempo
- 4** la potenza necessaria al moto

80 Quale tra i seguenti è un numero intero?

- 1** 5
- 2** 3,8
- 3** 0,1
- 4** 1/2

